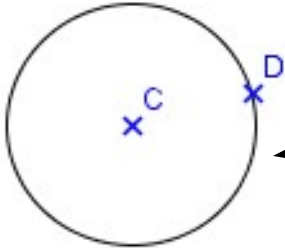


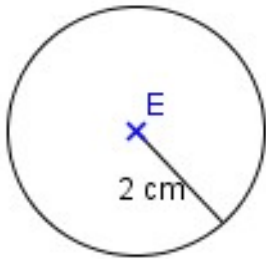
Un cercle.

Le centre du cercle.

Un rayon du cercle.



Le cercle de centre C et qui passe par D.

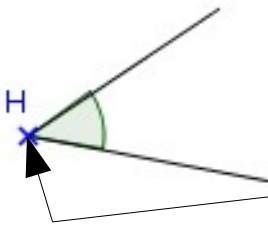


Le cercle de centre E et de rayon 2 cm.



Pour tracer un cercle, on utilise un compas.

La pointe du compas.

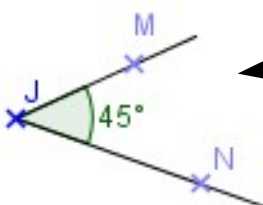


Un angle.

Son nom est \hat{H} .

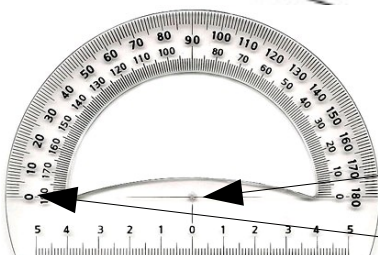
H est le sommet de l'angle.

Un accent circonflexe.



L'angle \widehat{MJN} (ou encore : \widehat{NJM}).

Il mesure 45° (quarante-cinq degrés).



Pour mesurer un angle, on utilise un rapporteur.

Le centre du rapporteur.

La graduation « 0 » du rapporteur.

Dans un rapporteur, il y a 180° .

