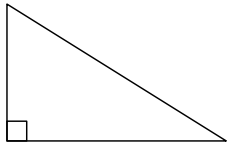


NOM :

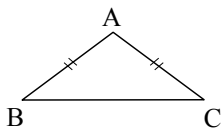
Prénom :

Exercice 1 : Compléter.



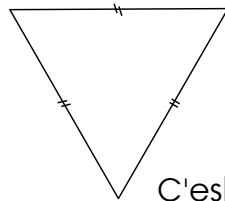
C'est

car



C'est

car



C'est

car

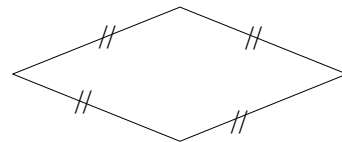
C'est

car



C'est

car



DAI

CONTROLE B

NOM :

Prénom :

1) Construire un losange dont les côtés mesurent 7 cm.

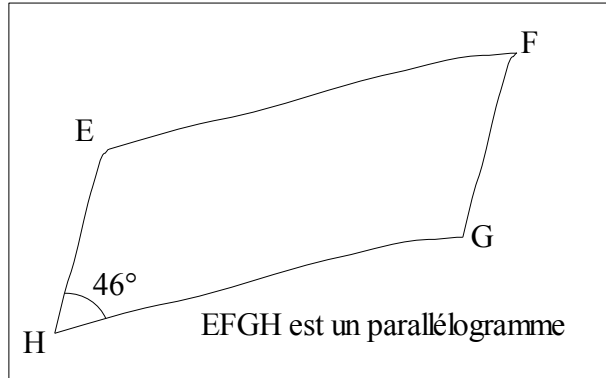
2) Construire un carré dont les diagonales mesurent 8 cm.

3) Construire un triangle isocèle ABC et un triangle équilatéral DEF.

NOM :

Prénom :

Exercice 1 :

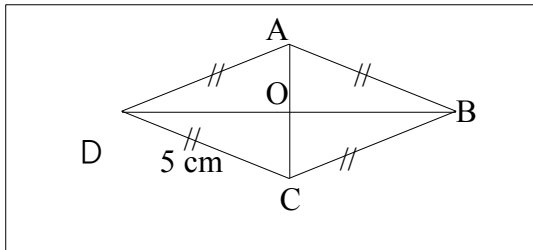


$\widehat{EFG} = \dots\dots\dots$

Pourquoi ?

.....

Exercice 2 :



AB =

Pourquoi ?

.....

BO = 4,5 cm

BD =

Pourquoi ?

.....