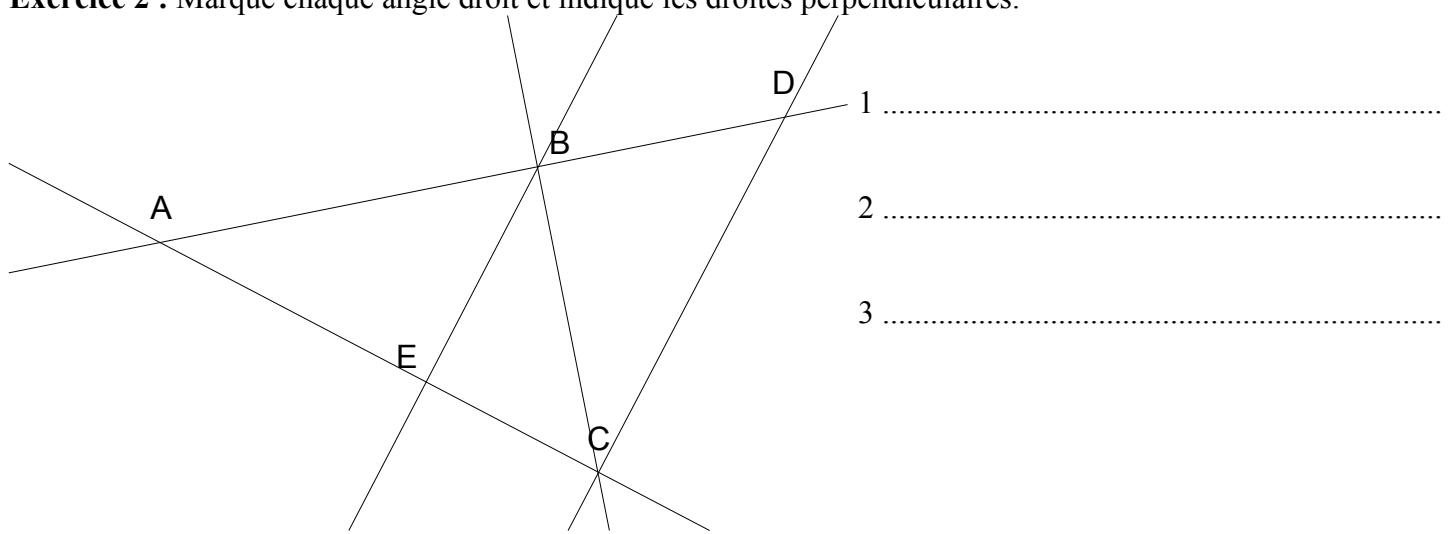
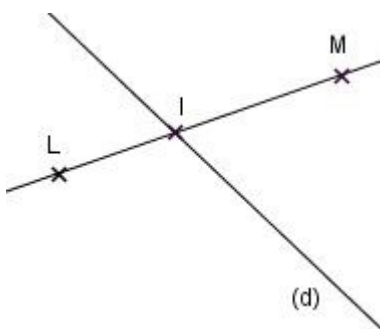


Exercice 1 : Complète par un mot :

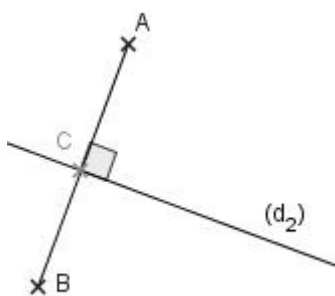
Exercice 2 : Marque chaque angle droit et indique les droites perpendiculaires.



Exercice 3 : Écrire un programme de construction pour chaque figure :



.....
.....
.....
.....
.....
.....
.....
.....
.....
.....



Exercice 4 :

1) Trace une droite (AB).

Trace un point C sur cette droite.

Trace un point D qui n'appartient pas à la droite (AB).

Trace le segment [CD].

Mesure la longueur du segment [CD].

2) Trace deux droites sécantes (d1) et (d2).

Le nom de leur point d'intersection est J.

Trace un segment [GH].

Trace la droite perpendiculaire à [GH] et qui passe par le point J.

3) Trace trois points D, E et F qui ne sont pas alignés.

Trace la droite (DE).

Trace la droite (d1), perpendiculaire à (DE) et passant par le point F.

Trace la droite (d2), perpendiculaire à (DE) et passant par D.

NOM :

Prénom :